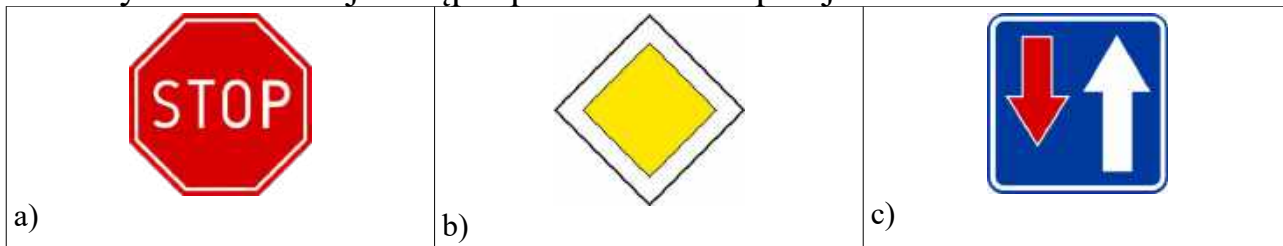


1. Który znak nakazuje ustąpić pierwszeństwa przejazdu?




2. Nakaz jazdy prosto przez skrzyżowanie jest wyrażony znakiem:



3. Który za znaków zabrania wjazdu rowerzystom?



4. Obowiązek ustąpienia pierwszeństwa na zwężonym odcinku drogi określa znak:



5. Wjazd w obszar, gdzie pieszy ma pierwszeństwo przed pojazdami oznaczony jest znakiem:



6. Droga przeznaczona dla ruchu rowerów oznakowana jest znakiem:



7. Zakaz skrętu w lewo może być oznaczony znakiem:



8. Droga przeznaczona dla ruchu rowerów oznakowana jest znakiem:



9. Zakaz skrętu w lewo może być oznaczony znakiem:



10. Dalszego poruszania się pieszych zabrania znak:




11. Zakaz skrętu w prawo może być wyrażony znakiem:




12. O zbliżaniu się do przejścia dla pieszych ostrzega znak:



13. Pierwszeństwo na skrzyżowaniu może być wyrażone znakiem:



14. Który znak ostrzega o zbliżeniu się do przejazdu kolejowego z zaporami?



15. O przejeździe dla rowerzystów informuje znak?



16. Który znak zabrania wjazdu rowerów?



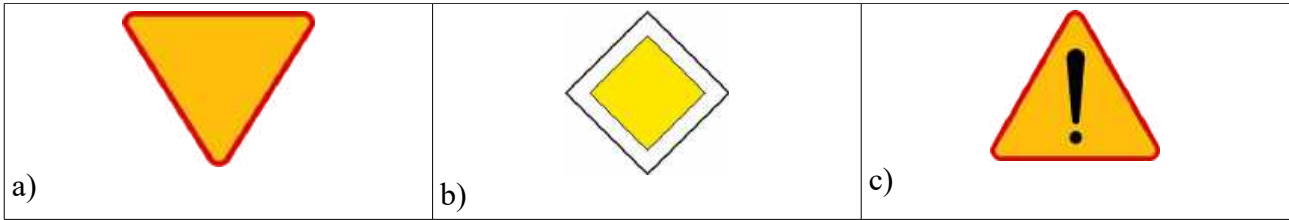
17. Który ze znaków zezwala na poruszanie się kierującemu rowerem?



18. Który ze znaków zabrania wjazdu kierującemu rowerem?



19. O tym, że poruszamy się drogą z pierwszeństwem przejazdu informuje nas znak:



20. Który znak ostrzega przed niebezpiecznymi zakrętami?



21. Zakaz ruchu wszelkich pojazdów może być wyrażony znakiem:



22. Rowerzyście podczas jazdy zabrania się:

- a) wyprzedzania samochodów
- b) jazdy szybciej niż 40 km/godz.
- c) jazdy obok innego rowerzysty

23. Karta rowerowa nie jest wymagana od osoby, która ukończyła lat:

- a) 13
- b) 15
- c) 18

24. Kartę rowerową wydaje:

- a) policjant ruchu drogowego
- b) dyrektor szkoły
- c) wydział komunikacji na wniosek dyrektora szkoły

25. Gdy przejeżdżamy rowerem obok stojącego samochodu, to:

- a) wymijamy go
- b) omijamy go
- c) wyprzedzamy go

26. Wyprzedzanie to:

- a) przejeżdżanie rowerem obok pieszego idącego w tym samym kierunku
- b) przejeżdżanie rowerem obok innego rowerzysty jadącego z przeciwka
- c) przejeżdżanie rowerem obok unieruchomionego samochodu

27. Wymijanie to:

- a) przejeżdżanie rowerem obok pieszego idącego w tym samym kierunku
- b) przejeżdżanie rowerem obok innego rowerzysty jadącego z przeciwnika
- c) przejeżdżanie rowerem obok unieruchomionego samochodu

28. Podczas wyprzedzania innego rowerzysty należy zachować odstęp:
minimum

- a) 0,5 metra
- b) minimum 1 metr
- c) bezpieczny, ale przepisy nie określają minimalnej odległości

29. Wymijanie to manewr polegający na przejeżdżaniu obok:

- a) samochodu poruszającego się w tym samym kierunku
- b) stojącego samochodu lub przeszkody (np. dziury w jezdni)
- c) idącego z przeciwnika pieszego

30. Gdy policjant kieruje ruchem na skrzyżowaniu i stoi tyłem do naszego kierunku jazdy, to taką postawę policjanta można przyrównać do światła:

- a) zielonego
- b) żółtego
- c) czerwonego

31. Gdy policjant kieruje ruchem na skrzyżowaniu i stoi bokiem do naszego kierunku jazdy, to taką postawę policjanta można przyrównać do światła:

- a) zielonego
- b) żółtego
- c) czerwonego

32. Ile maksymalnie rowerów jednośladowych może poruszać się w zorganizowanej kolumnie ?

- a) 5
- b) 10
- c) 15

33. Rowerzyście przejeżdżającemu przez przejazd dla rowerzystów zabrania się:

- a) wymijania się z innym rowerzystą
- b) jazdy, trzymając się tylko jedną ręką kierownicy
- c) zwalniania lub zatrzymywania się bez uzasadnionej przyczyny

34. Kierujący rowerem powinien w pierwszej kolejności jechać:

- a) po drodze dla rowerów, po poboczu, po jezdni
- b) po drodze dla rowerów, po jezdni, po poboczu
- c) po drodze dla rowerów, po chodniku, po poboczu

35. Włączaniem się do ruchu nie jest wyjeżdżanie rowerem:

- a) z pobocza na jezdnię
- b) z drogi dla rowerów na jezdnię lub pobocze
- c) z drogi podporządkowanej na drogę z pierwszeństwem przejazdu

36. Włączając się do ruchu rowerzysta jest zobowiązany ustąpić pierwszeństwa:

- a) tylko kierującym pojazdami
- b) wszystkim uczestnikom ruchu

- c) tylko pieszym oraz pojazdom nadjeżdżającym z prawej strony
37. Rowerzysta może jechać po chodniku, gdy:
- zawsze gdy na jezdni jest duży ruch pojazdów
 - dozwolona prędkość na jezdni obok chodnika wynosi ponad 60 km/godz. a szerokość chodnika jest większa niż 2 metry
 - zawsze gdy szerokość chodnika jest bardzo duża
38. Rowerzysta może kierować w strefie zamieszkania rowerem nie przekraczając prędkości:
- 10 km/godz.
 - 20 km/godz.
 - przepisy nie określają prędkości rowerów w strefie zamieszkania
39. Rowerzysta skręcając na skrzyżowaniu w lewo powinien:
- jechać możliwie blisko lewego krawężnika na drodze dwukierunkowej
 - zająć pas najbliższy środka jezdni
 - może jechać dowolnym pasem ruchu
40. Rowerzysta skręcając na skrzyżowaniu w lewo powinien:
- sygnalizować zamiar skrętu - wyciągnąć lewą rękę
 - zawsze się zatrzymać
 - jadąc drogą jednokierunkową może nie sygnalizować zamiaru skrętu
41. Wyprzedzanie na skrzyżowaniu jest:
- zawsze zabronione
 - dozwolone na skrzyżowaniach o ruchu kierowanym
 - dozwolone z wyjątkiem skrzyżowań o ruchu okrężnym (rond)
42. Skręcając w lewo na skrzyżowaniu równorzędnym rowerzysta musi ustąpić pierwszeństwa:
- wszystkim pojazdom, bez względu z którego kierunku nadjeżdżają
 - tylko pojazdom nadjeżdżającym z prawej strony
 - pojazdom jadącym z przeciwka na wprost lub skręcającym w prawo
43. Wyprzedzanie innego rowerzysty na przejściu dla pieszych jest:
- dozwolone wyłącznie na przejściach o ruchu kierowanym
 - zawsze zabronione
 - dozwolone bez ograniczeń
44. Rowerzysta jadący po drodze przeznaczonej dla rowerów i pieszych:
- ma obowiązek ustępować pierwszeństwa pieszym
 - ma pierwszeństwo przed pieszymi
 - pierwszeństwo nie zostało określone przepisami
45. Rowerzysta ma obowiązek włączenia świateł przy rowerze podczas:
- jazdy poza terenem zabudowanym
 - jazdy w tunelu
 - jazdy w kolumnie
46. Pojazd uprzywilejowany to:
- każdy pojazd Policji
 - pojazd wysyłający niebieskie światło błyskowe i sygnał dźwiękowy o

zmiennym tonie

c) tramwaj wjeżdżający na skrzyżowanie

47. Kierujący rowerem powinien w kolejności stosować się do:

a) sygnalizacji świetlnej, poleceń policjanta kierującego ruchem, znaków drogowych

b) poleceń policjanta kierującego ruchem, sygnalizacji świetlnej, znaków drogowych

c) poleceń policjanta kierującego ruchem, znaków drogowych, sygnalizacji świetlnej

48. Jeżeli na drodze obok linii białych znajdują się również linie żółte, to kierujący rowerem jest zobowiązany stosować się:

a) na drogach nie spotyka się żółtych znaków poziomych

b) do znaków poziomych (linii) żółtych przed białymi

c) do znaków poziomych (linii) białych przez żółtymi

49. Kierujący pojazdem wyprzedzanym:

a) w czasie wyprzedzania może zwiększyć prędkość

b) bezpośrednio po wyprzedzeniu może zwiększyć prędkość

c) nie wolno mu zwiększyć prędkości w czasie wyprzedzania i bezpośrednio po nim

50. Rowerzysta jadący po jezdni z wyznaczonymi pasami ruchu powinien:

a) jechać prawym pasem ruchu - jego środkiem

b) jechać dowolnym pasem ruchu

c) jechać prawym pasem ruchu - możliwie blisko prawej jego krawędzi

51. Na trypasmowej jezdni jednokierunkowej kierujący rowerem powinien jechać pasem:

a) lewym, jeśli jest możliwa jazda pasem prawym i środkowym

b) środkowym, jeśli jest możliwa jazda pasem prawym

c) lewym, jeśli nie jest możliwa jazda pasem prawym i środkowym

52. Kierujący rowerem powinien sygnalizować zamiar zmiany pasa ruchu:

a) wcześniej

b) w trakcie manewru

c) po uprzednim użyciu dzwonka

53. Wjeżdżając na przejazd dla rowerzystów przebiegający przez jezdnię:

a) musisz pamiętać, że samochody na jezdni mogą do przejazdu zbliżyć się z dużą prędkością i nie będą w stanie ustąpić Ci pierwszeństwa przejazdu

b) zawsze możesz liczyć na to, że kierujący pojazdami na jezdni zbliżając się do przejazdu zatrzymają się, aby ustąpić Ci pierwszeństwa

c) nie musisz zwracać uwagi na nadjeżdżające pojazdy, albowiem masz pierwszeństwo przejazdu

54. Kierujący rowerem poruszający się po drodze z poboczem:

a) ma obowiązek korzystania z pobocza

b) powinien korzystać z jezdni

c) nie ma obowiązku korzystania z pobocza

55. Jadąc z dużą prędkością rowerem, który jest wyposażony w oddzielne hamulce, przedniego i tylnego koła należy:

- a) unikać hamowania przednim hamulcem
- b) hamować przednim hamulcem
- c) unikać hamowania

56. Rowerzyście zabrania się zatrzymywania, m.in.

- a) przy prawej krawędzi jezdni na wszystkich drogach
- b) na pasie między jezdniami
- c) na drodze dla rowerów

57. Jadąc rowerem przez plac, na którym nie wyodrębniono chodnika i ruch pojazdów i pieszych odbywa się po tej samej powierzchni:

- a) rowerzysta ma pierwszeństwo przed pieszymi
- b) rowerzysta powinien jechać powoli i ustępować pierwszeństwa pieszym
- c) pierwszeństwo nie zostało określone przepisami

58. Rower musi być wyposażony w białe światło z przodu; światło to nazywa się:

- a) pozycyjne
- b) mijania
- c) drogowe

59. Rowerzystom zabrania się:

- a) jazdy po autostradzie
- b) jazdy w strefie zamieszkania
- c) jazdy po zmroku

60. Czy dopuszczalne jest holowanie roweru ?

- a) tak, na połączeniu giętkim, ale długość holu (linki) musi wynosić od 4 do 6 metrów
- b) tak, ale tylko jadąc poboczem
- c) nie

61. Do kierowania rowerem po drodze publicznej osobę w wieku 11 lat uprawnia:

- a) tylko karta rowerowa
- b) pisemna zgoda rodziców
- c) zgoda wychowawcy podczas wycieczki klasowej, jeżeli połowa uczniów posiada karty rowerowe

62. Białe światło z przodu roweru musi oświetlać drogę przed rowerem na odległość:

- a) 20 metrów
- b) 30 metrów
- c) podstawowym zadaniem tego światła nie jest oświetlanie drogi tylko określenie pozycji roweru na drodze dla innych uczestników ruchu drogowego

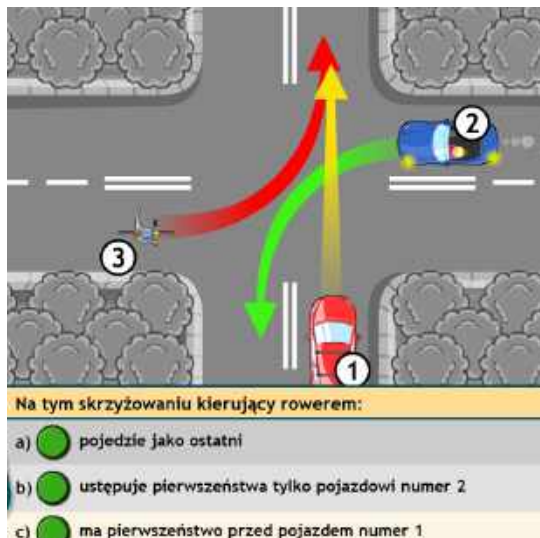
63. Czerwone światło odblaskowe z tyłu roweru jest obowiązkowe. Nie może ono być w kształcie:
- koła
 - trójkąta
 - kwadratu
64. Zgodnie z przepisami ruchu drogowego, rower musi być wyposażony w:
- lusterko po lewej stronie
 - sygnał dźwiękowy, np. trąbkę
 - nóżkę do postawienia roweru
65. W skład obowiązkowego wyposażenia roweru wchodzi:
- komplet kluczy
 - pompka
 - dzwonek lub inny sygnał dźwiękowy
66. Które światło jest obowiązkowym wyposażeniem roweru ?
- białe światło odblaskowe z przodu roweru
 - czerwone światło odblaskowe z tyłu roweru
 - żółte światło odblaskowe w pedałach roweru
67. Rower przeznaczony dla dwóch osób to:
- duet
 - dublet
 - tandem
68. Światła odblaskowe z boku roweru (np. umieszczone w kołach) są wyposażeniem:
- dodatkowym
 - obowiązkowym
 - nie potrzebnym
69. Czerwone światło pozycyjne z tyłu roweru:
- może być migające
 - może być zastąpione światłem odblaskowym
 - powinno być widoczne z odległości minimum 1 km
70. Rower nie musi być wyposażony w:
- dzwonek lub inny sygnał dźwiękowy
 - dwa niezależnie działające hamulce
 - światło odblaskowe czerwone z tyłu roweru
71. Światło odblaskowe z tyłu roweru:
- musi być koloru czerwonego i nie może być trójkątne
 - musi być koloru czerwonego - kształt nie ma znaczenia
 - może być czerwone lub pomarańczowe w kształcie innym niż trójkąt
72. Rower musi być wyposażony w:
- dwa niezależnie działające hamulce
 - przynajmniej jeden sprawny hamulec
 - hamulec tzw. ręczny
73. Do obowiązkowego wyposażenia roweru należą m.in.:

- a) błotniki
- b) bidon
- c) dzwonek

74. Rower to:

- a) pojazd samochodowy jednośladowy
- b) pojazd jednośladowy lub wielośladowy
- c) pojazd specjalny poruszany siłą mięśni osoby jadącej tym pojazdem

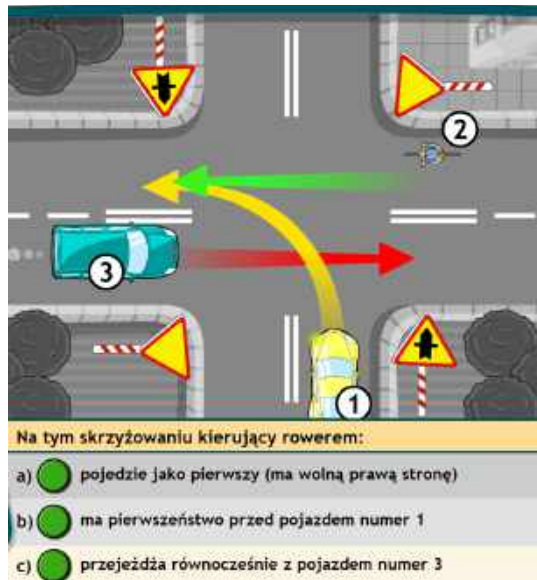
75. Pierwszeństwo na skrzyżowaniu



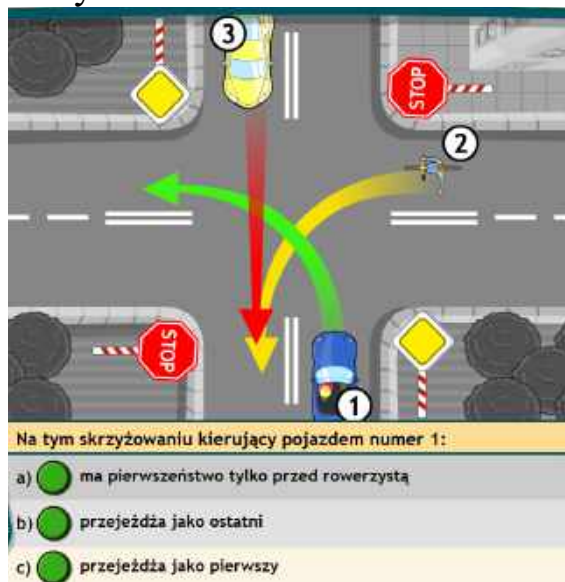
76. Pierwszeństwo na skrzyżowaniu



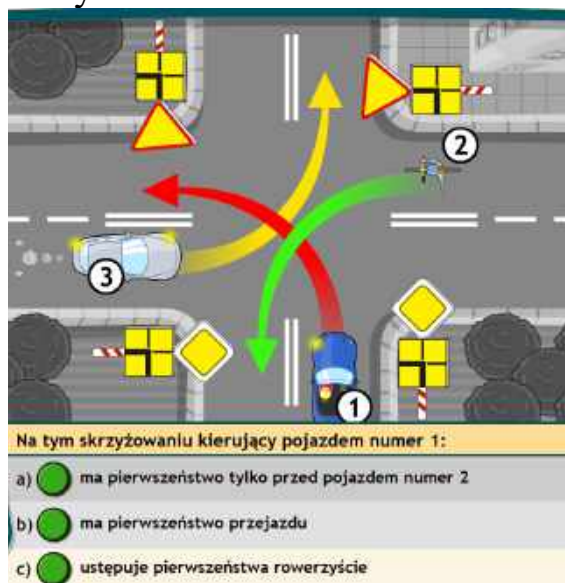
77. Pierwszeństwo na skrzyżowaniu



78. Pierwszeństwo na skrzyżowaniu



78. Pierwszeństwo na skrzyżowaniu



79. Pierwszeństwo na skrzyżowaniu

The diagram shows a crossroads where a tram (2) is moving straight through. A car (1) is turning right across the tram's path. A cyclist (3) is moving straight through from the left. Traffic signs include a yellow diamond priority sign for the tram and a yellow triangle yield sign for the car. A red arrow points from the car towards the tram, and a green arrow points from the cyclist towards the tram.

Na tym skrzyżowaniu rowerzysta:

- a) ma pierwszeństwo przejazdu
- b) ustępuje pierwszeństwa pojazdowi numer 1
- c) ustępuje pierwszeństwa tylko pojazdowi szynowemu

80. Pierwszeństwo na skrzyżowaniu

The diagram shows a crossroads where a cyclist (2) is moving straight through. A car (1) is turning right across the cyclist's path. A car (3) is moving straight through from the left. A green arrow points from the cyclist towards the car (1), and a red arrow points from the car (3) towards the cyclist (2).

Na tym skrzyżowaniu:

- a) pojazdy numer 1 i 3 pojadą równocześnie
- b) rowerzysta pojedzie jako drugi
- c) pierwszy pojedzie pojazd numer 1

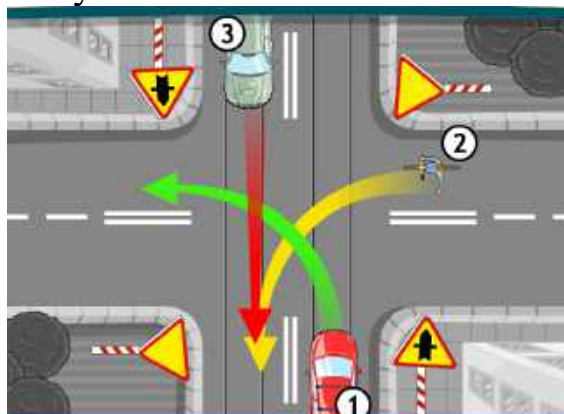
81. Pierwszeństwo na skrzyżowaniu

The diagram shows a crossroads where a car (3) is moving straight through. A cyclist (2) is turning right across the car's path. A car (1) is moving straight through from the left. Traffic signs include yellow triangles with a red 'X' indicating a dead-end or no entry for the cyclist and car (1). A red arrow points from the cyclist towards the car (3), and a green arrow points from the car (3) towards the cyclist (2).

Na tym skrzyżowaniu pojazd numer 3:

- a) pojedzie jako drugi
- b) musi ustąpić wszystkim pierwszeństwa przejazdu
- c) może jechać równocześnie z rowerzystą

82. Pierwszeństwo na skrzyżowaniu




The diagram shows a crossroad intersection. A main road (top) has a yellow diamond priority sign. A side road (bottom) has a red octagonal stop sign. A cyclist (2) is on the side road, moving towards the intersection. A car (1) is on the main road, moving towards the intersection. A car (3) is on the main road, moving away from the intersection. Colored arrows indicate the movement of each vehicle.

Na tym skrzyżowaniu kierujący rowerem:

- a) ustępuje pierwszeństwa tylko pojazdowi numer 3
- b) ustępuje pierwszeństwa tylko pojazdowi numer 1
- c) pojedzie jako ostatni

83. Pierwszeństwo na skrzyżowaniu

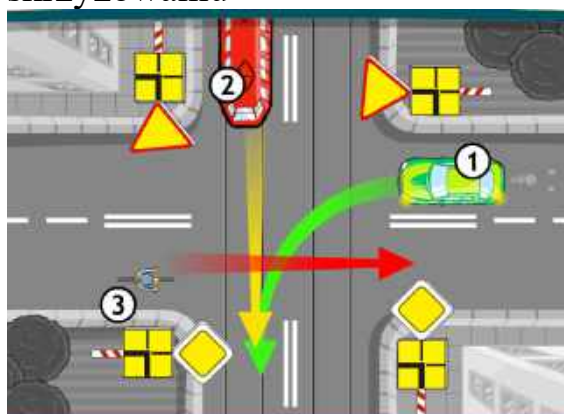


The diagram shows a crossroad intersection. A main road (top) has a red octagonal stop sign. A side road (bottom) has a yellow diamond priority sign. A cyclist (2) is on the side road, moving towards the intersection. A car (1) is on the main road, moving towards the intersection. A car (3) is on the main road, moving away from the intersection. Colored arrows indicate the movement of each vehicle.

W tej sytuacji kierujący pojazdem numer 1:

- a) ustępuje pierwszeństwa rowerzyście
- b) ma pierwszeństwo tylko przed pojazdem numer 3
- c) przejeżdża jako pierwszy

84. Pierwszeństwo na skrzyżowaniu

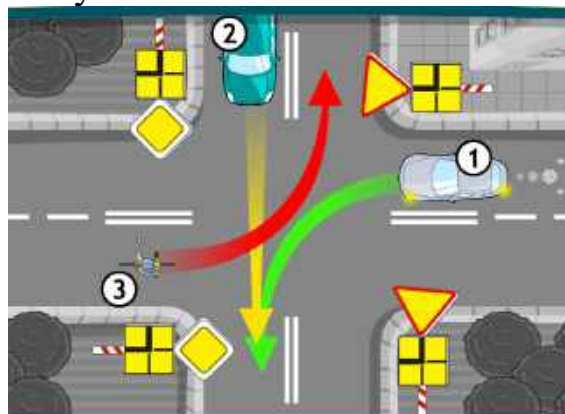


The diagram shows a crossroad intersection. A main road (top) has a yellow diamond priority sign. A side road (bottom) has a red octagonal stop sign. A cyclist (2) is on the side road, moving towards the intersection. A car (1) is on the main road, moving towards the intersection. A car (3) is on the main road, moving away from the intersection. Colored arrows indicate the movement of each vehicle.

W tej sytuacji rowerzysta:

- a) ma pierwszeństwo przejazdu
- b) musi ustąpić pierwszeństwa pojazdowi szynowemu
- c) ustępuje pierwszeństwa przejazdu obu pojazdom


85. Pierwszeństwo na skrzyżowaniu



Na tym skrzyżowaniu:

- a) pojazd numer 2 pojedzie jako pierwszy, bo jedzie na wprost
- b) rowerzysta pojedzie jako pierwszy
- c) rowerzysta i pojazd numer 1 mogą jechać równocześnie

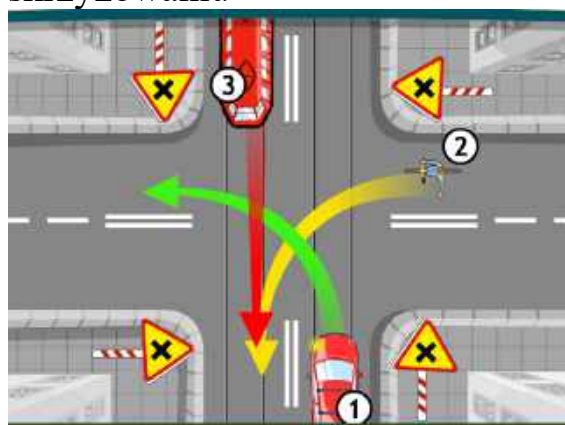
86. Pierwszeństwo na skrzyżowaniu



Na tym skrzyżowaniu rowerzysta:

- a) pojedzie równocześnie z pojazdem numer 3
- b) ustępuje pierwszeństwa pojazdowi numer 1
- c) ma pierwszeństwo przejazdu

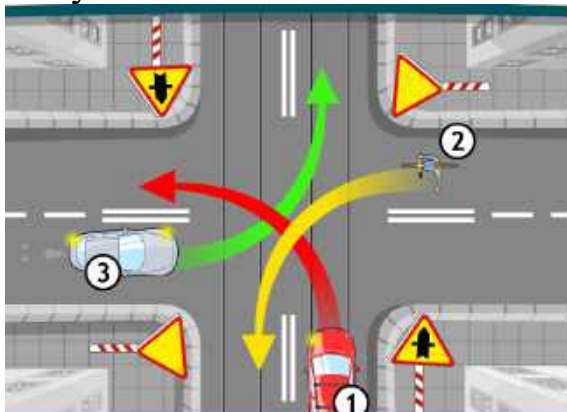
87. Pierwszeństwo na skrzyżowaniu



Przez to skrzyżowanie pierwszy przejedzie:

- a) pojazd szynowy
- b) rowerzysta
- c) pojazd numer 1

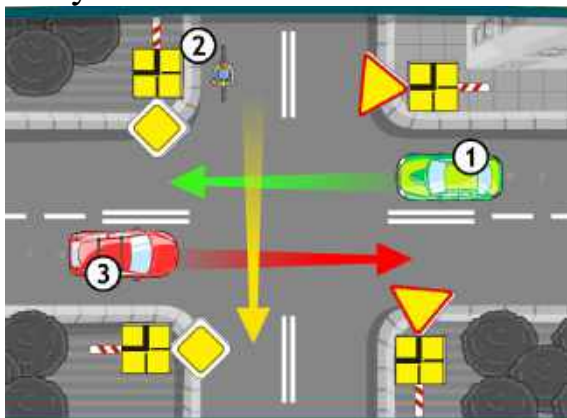
88. Pierwszeństwo na skrzyżowaniu



W tej sytuacji kierujący pojazdem numer 3:

- a) musi ustąpić pierwszeństwa tylko pojazdowi numer 1
- b) ustępuje pierwszeństwa rowerzyście
- c) przejedzie jako pierwszy

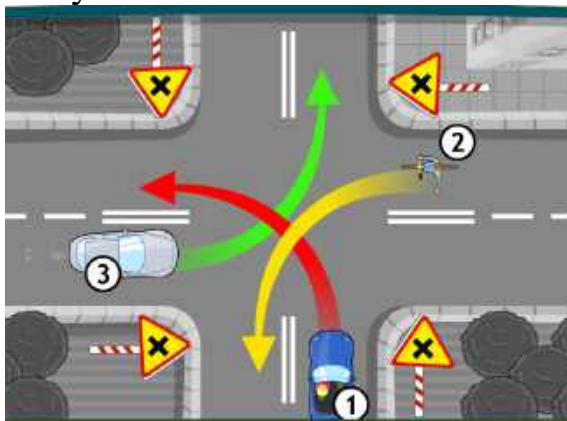
89. Pierwszeństwo na skrzyżowaniu



Na tym skrzyżowaniu:

- a) pojazdy numer 1 i 3 mogą jechać równocześnie
- b) rowerzysta pojedzie jako drugi
- c) pojazd numer 1 pojedzie jako pierwszy

90. Pierwszeństwo na skrzyżowaniu



Na tym skrzyżowaniu kierujący rowerem:

- a) pojedzie równocześnie z pojazdem numer 3
- b) musi ustąpić pierwszeństwa pojazdowi numer 1
- c) pojedzie jako pierwszy

91. Gdzie można się poruszać przy pomocy urządzeń wspomagających ruch: rolek, wrotki, deskorolek, hulajnóg tradycyjnych:

- a) tylko po drodze dla pieszych z prędkością zbliżoną do prędkości pieszych
- b) po drodze dla pieszych i po jezdni z zachowaniem ruchu prawostronnego.
- c) po drodze dla pieszych z prędkością zbliżoną do prędkości pieszych, oraz po drodze rowerowej z zachowaniem ruchu prawostronnego.

92. Poruszając się hulajnogą elektryczną po chodniku użytkownik jest zobowiązany do:

- a) ustąpienia pierwszeństwa pieszemu
- b) ma pierwszeństwo przed pieszym
- c) traktowany jest jak rowerzysta i nie może poruszać się po chodniku.

93. Które urządzenia zaliczamy do urządzeń transportu osobistego (UTO):

- a) deskorolki elektryczne, deski żyroskopowe (hoverboardy),
- b) rowery i hulajnogi
- c) wrotki i rolki

94. Aby korzystać z hulajnogi elektrycznej zgodnie z przepisami ruchu drogowego należy:

- a) w wieku 10-18 lat posiadać kartę rowerową, dziecko do lat 10 może poruszać się w strefie zamieszkania tylko pod opieką osoby dorosłej
- b) nie wymagane jest posiadanie karty rowerowej przez osoby poniżej 18 roku życia
- c) w strefie zamieszkania osoby poniżej 10 roku życia mogą poruszać się samodzielnie.

95. Kierujący urządzeniem transportu osobistego jest obowiązany korzystać z:

- a) jezdni jeżeli nie ma drogi rowerowej w kierunku w, którym się porusza.
- b) drogi dla rowerów, jeżeli jest ona wyznaczona dla kierunku, w którym się porusza
- c) ma dowolność wyboru drogi pod warunkiem, że nie przekroczy prędkości 15 km/h/

96. Wyprzedzając pojazdem typu urządzenie transportu osobistego inny pojazd musimy zachować bezpieczny odstęp.

- a) minimum 1 m od wyprzedzanego uczestnika ruchu.
- b) minimum 1,5 m od wyprzedzanego uczestnika ruchu.
- c) w tym przypadku ustawa nie określa odległości.

97. Jeżeli na sygnalizatorze świetlnym miga żółte światło, to znaczy, że

- a) za chwilę pojawi się światło czerwone

- b) za chwilę pojawi się światło zielone
- c) sygnalizacja nie działa i stosujemy się do znaków pionowych i poziomych

98. Jeden ratownik prowadzi masaż serca i sztuczne oddychanie w rytmie

- a) 30 uciśnień mostka, potem 2 wdmuchnięcia powietrza
- b) 5 uciśnień mostka, potem 3 wdmuchnięcia powietrza
- c) 20 uciśnień mostka, potem 1 wdmuchnięcie powietrza

99. Jeżeli ofiara wypadku ma złamaną nogę, jest przytomna i wezwano już pogotowie ratunkowe, to należy

- a) zakazać poruszania się i uspokajać ją
- b) bez względu na rodzaj złamania przenieść ofiarę wypadku na znajdującą się w pobliżu ławkę, by nie utrudniała ruchu
- c) podać leki przeciwbólowe, by zmniejszyć dolegliwości bólowe

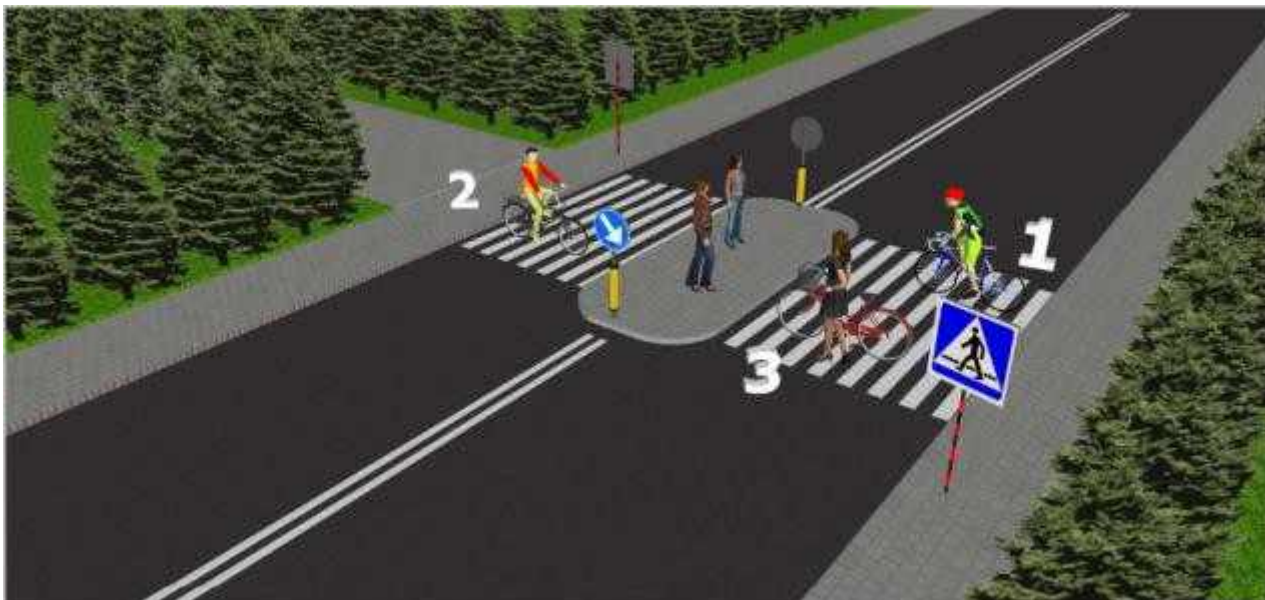
99. Najwłaściwszym ułożeniem przytomnej ofiary wypadku z podejrzeniem urazu kręgosłupa piersiowego jest

- a) ułożenie na brzuchu
- b) ułożenie płasko na wznak, na twardym podłożu
- c) ułożenie na boku



100. W przedstawionej sytuacji wykroczenie popełnia kierujący rowerem nr :

- a) Rowerem 1
- b) Rowerem 2
- c) Rowerem 3



101. W tej sytuacji prawidłowo postępuje rowerzysta numer:

- a) 1
- b) 2
- c) 3



102. W tej sytuacji kierujący rowerem powinien:

- a) Przyspieszyć, starając się przejechać przed pieszymi.
- b) Zatrzymać pojazd przed przejściem dla pieszych.
- c) Ostrożnie może ominąć pieszych i kontynuować jazdę.



103. Kierujący rowerem w tej sytuacji powinien

- a) Ominąć pieszych na przejściu bo mają czerwone światło
- b) Powinien poczekać aż piesi opuszczą przejście i dopiero wtedy kontynuować jazdę
- c) Rowerzysta powinien poganiać pieszych bo ma zielone światło

104. Przechodzenie przez jezdnię poza wyznaczonymi przejściami dla pieszych jest dozwolone:

- a) Gdy odległość do przejścia przekracza 100 m
- b) Gdy odległość do przejścia przekracza 50 m
- c) Tylko kiedy trzeba dobiec do stojącego na przystanku autobusu lub tramwaju

105. Holowanie roweru przez kierującego innym rowerem:

- a) jest niedopuszczalne,
- b) jest dozwolone, jeżeli holowany rower jest niesprawny technicznie, np. ma zerwany łańcuch,
- c) jest dozwolone, pod warunkiem że kierujący rowerem ciągnącym, ma ukończone 13 lat.