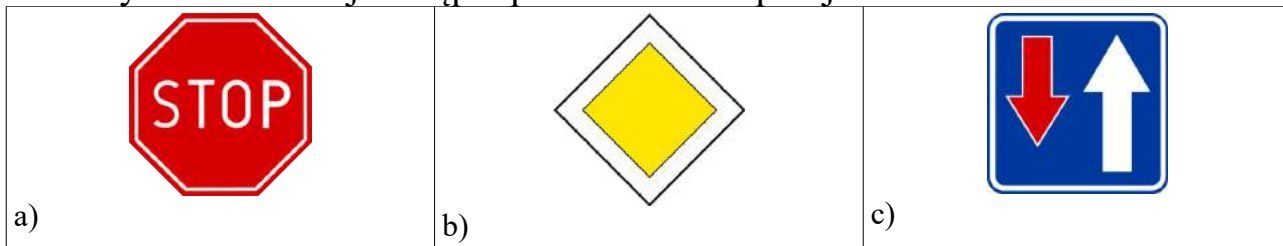


1. Który znak nakazuje ustąpić pierwszeństwa przejazdu?




2. Nakaz jazdy prosto przez skrzyżowanie jest wyrażony znakiem:



3. Który za znaków zabrania wjazdu rowerzystom?



4. Obowiązek ustąpienia pierwszeństwa na zwężonym odcinku drogi określa znak:



5. Wjazd w obszar, gdzie pieszy ma pierwszeństwo przed pojazdami oznaczony jest znakiem:



6. Droga przeznaczona dla ruchu rowerów oznakowana jest znakiem:




7. Zakaz skrętu w lewo może być oznaczony znakiem:



8. Droga przeznaczona dla ruchu rowerów oznakowana jest znakiem:



9. Zakaz skrętu w lewo może być oznaczony znakiem:



10. Dalszego poruszania się pieszych zabrania znak:




11. Zakaz skrętu w prawo może być wyrażony znakiem:




12. O zbliżaniu się do przejścia dla pieszych ostrzega znak:



13. Pierwszeństwo na skrzyżowaniu może być wyrażone znakiem:



14. Który znak ostrzega o zbliżaniu się do przejazdu kolejowego z zaporami?



15. O przejeździe dla rowerzystów informuje znak?



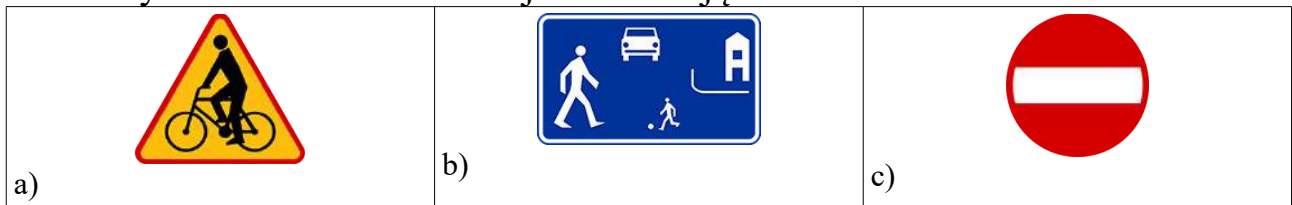
16. Który znak zabrania wjazdu rowerów?



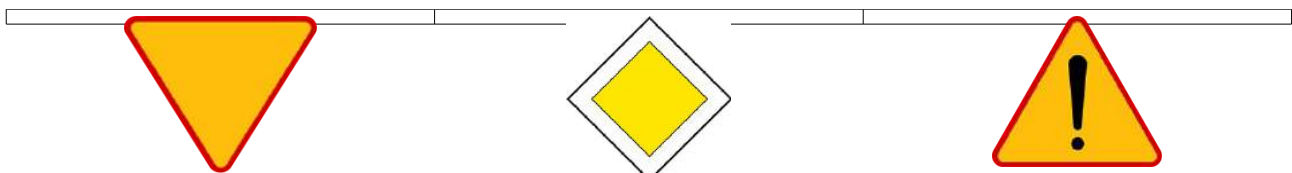
17. Który ze znaków zezwala na poruszanie się kierującemu rowerem?



18. Który ze znaków zabrania wjazdu kierującemu rowerem?



19. O tym, że poruszamy się drogą z pierwszeństwem przejazdu informuje nas znak:



a)	b)	c)
----	----	----

20. Który znak ostrzega przed niebezpiecznymi zakrętami?



21. Zakaz ruchu wszelkich pojazdów może być wyrażony znakiem:



22. Rowerzyście podczas jazdy zabrania się:

- a) wyprzedzania samochodów
- b) jazdy szybciej niż 40 km/godz.
- c) jazdy obok innego rowerzysty

23. Karta rowerowa nie jest wymagana od osoby, która ukończyła lat:

- a) 13
- b) 15
- c) 18

24. Kartę rowerową wydaje:

- a) policjant ruchu drogowego
- b) dyrektor szkoły
- c) wydział komunikacji na wniosek dyrektora szkoły

25. Gdy przejeżdżamy rowerem obok stojącego samochodu, to:

- a) wymijamy go
- b) omijamy go
- c) wyprzedzamy go

26. Wyprzedzanie to:

- a) przejeżdżanie rowerem obok pieszego idącego w tym samym kierunku
- b) przejeżdżanie rowerem obok innego rowerzysty jadącego z przeciwka
- c) przejeżdżanie rowerem obok unieruchomionego samochodu

27. Wymijanie to:

- a) przejeżdżanie rowerem obok pieszego idącego w tym samym kierunku
- b) przejeżdżanie rowerem obok innego rowerzysty jadącego z przeciwka
- c) przejeżdżanie rowerem obok unieruchomionego samochodu

Podczas wyprzedzania innego rowerzysty należy zachować odstęp: minimum

- a) 0,5 metra
- b) minimum 1 metr

- c) bezpieczny, ale przepisy nie określają minimalnej odległości
29. Wymijanie to manewr polegający na przejeżdżaniu obok:
- samochoду poruszającego się w tym samym kierunku
 - stojącego samochodu lub przeszkody (np. dziury w jezdni)
 - idącego z przeciwka pieszego
30. Gdy policjant kieruje ruchem na skrzyżowaniu i stoi tyłem do naszego kierunku jazdy, to taką postawę policjanta można przyrównać do światła:
- zielonego
 - żółtego
 - czerwonego
31. Gdy policjant kieruje ruchem na skrzyżowaniu i stoi bokiem do naszego kierunku jazdy, to taką postawę policjanta można przyrównać do światła:
- zielonego
 - żółtego
 - czerwonego
32. Ile maksymalnie rowerów jednośladowych może poruszać się w zorganizowanej kolumnie ?
- 5
 - 10
 - 15
33. Rowerzyście przejeżdżającemu przez przejazd dla rowerzystów zabrania się:
- wymijania się z innym rowerzystą
 - jazdy, trzymając się tylko jedną ręką kierownicy
 - zwalniania lub zatrzymywania się bez uzasadnionej przyczyny
34. Kierujący rowerem powinien w pierwszej kolejności jechać:
- po drodze dla rowerów, po poboczu, po jezdni
 - po drodze dla rowerów, po jezdni, po poboczu
 - po drodze dla rowerów, po chodniku, po poboczu
35. Włączaniem się do ruchu nie jest wyjeżdżanie rowerem:
- z pobocza na jezdnię
 - z drogi dla rowerów na jezdnię lub pobocze
 - z drogi podporządkowanej na drogę z pierwszeństwem przejazdu
36. Włączając się do ruchu rowerzysta jest zobowiązany ustąpić pierwszeństwa:
- tylko kierującym pojazdami
 - wszystkim uczestnikom ruchu
 - tylko pieszym oraz pojazdom nadjeżdżającym z prawej strony
37. Rowerzysta może jechać po chodniku, gdy:
- zawsze gdy na jezdni jest duży ruch pojazdów
 - dozwolona prędkość na jezdni obok chodnika wynosi ponad 60 km/godz. a szerokość chodnika jest większa niż 2 metry
 - zawsze gdy szerokość chodnika jest bardzo duża
38. Rowerzysta może kierować w strefie zamieszkania rowerem nie

przekraczając prędkości:

- a) 10 km/godz.
- b) 20 km/godz.
- c) przepisy nie określają prędkości rowerów w strefie zamieszkania

39. Rowerzysta skręcając na skrzyżowaniu w lewo powinien:

- a) jechać możliwie blisko lewego krawężnika na drodze dwukierunkowej
- b) zająć pas najbliższy środka jezdni
- c) może jechać dowolnym pasem ruchu

40. Rowerzysta skręcając na skrzyżowaniu w lewo powinien:

- a) sygnalizować zamiar skrętu - wyciągnąć lewą rękę
- b) zawsze się zatrzymać
- c) jadąc drogą jednokierunkową może nie sygnalizować zamiaru skrętu

41. Wyprzedzanie na skrzyżowaniu jest:

- a) zawsze zabronione
- b) dozwolone na skrzyżowaniach o ruchu kierowanym
- c) dozwolone z wyjątkiem skrzyżowań o ruchu okrężnym (rond)

42. Skręcając w lewo na skrzyżowaniu równorzędnym rowerzysta musi ustąpić pierwszeństwa:

- a) wszystkim pojazdom, bez względu z którego kierunku nadjeżdżają
- b) tylko pojazdom nadjeżdżającym z prawej strony
- c) pojazdom jadącym z przeciwka na wprost lub skręcającym w prawo

43. Wyprzedzanie innego rowerzysty na przejściu dla pieszych jest:

- a) dozwolone wyłącznie na przejściach o ruchu kierowanym
- b) zawsze zabronione
- c) dozwolone bez ograniczeń

44. Rowerzysta jadący po drodze przeznaczonej dla rowerów i pieszych:

- a) ma obowiązek ustępować pierwszeństwa pieszym
- b) ma pierwszeństwo przed pieszymi
- c) pierwszeństwo nie zostało określone przepisami

45. Rowerzysta ma obowiązek włączenia świateł przy rowerze podczas:

- a) jazdy poza terenem zabudowanym
- b) jazdy w tunelu
- c) jazdy w kolumnie

46. Pojazd uprzywilejowany to:

- a) każdy pojazd Policji
- b) pojazd wysyłający niebieskie światło błyskowe i sygnał dźwiękowy o zmiennym tonie
- c) tramwaj wjeżdżający na skrzyżowanie

47. Kierujący rowerem powinien w kolejności stosować się do:

- a) sygnalizacji świetlnej, poleceń policjanta kierującego ruchem, znaków drogowych
- b) poleceń policjanta kierującego ruchem, sygnalizacji świetlnej, znaków drogowych

- c) poleceń policjanta kierującego ruchem, znaków drogowych, sygnalizacji świetlnej
48. Jeżeli na drodze obok linii białych znajdują się również linie żółte, to kierujący rowerem jest zobowiązany stosować się:
- a) na drogach nie spotyka się żółtych znaków poziomych
 - b) do znaków poziomych (linii) żółtych przed białymi
 - c) do znaków poziomych (linii) białych przez żółtymi
49. Kierujący pojazdem wyprzedzanym:
- a) w czasie wyprzedzania może zwiększyć prędkość
 - b) bezpośrednio po wyprzedzeniu może zwiększyć prędkość
 - c) nie wolno mu zwiększyć prędkości w czasie wyprzedzania i bezpośrednio po nim
50. Rowerzysta jadący po jezdni z wyznaczonymi pasami ruchu powinien:
- a) jechać prawym pasem ruchu - jego środkiem
 - b) jechać dowolnym pasem ruchu
 - c) jechać prawym pasem ruchu - możliwie blisko prawej jego krawędzi
51. Na trypasmowej jezdni jednokierunkowej kierujący rowerem powinien jechać pasem:
- a) lewym, jeśli jest możliwa jazda pasem prawym i środkowym
 - b) środkowym, jeśli jest możliwa jazda pasem prawym
 - c) lewym, jeśli nie jest możliwa jazda pasem prawym i środkowym
52. Kierujący rowerem powinien sygnalizować zamiar zmiany pasa ruchu:
- a) wcześniej
 - b) w trakcie manewru
 - c) po uprzednim użyciu dzwonka
53. Wjeżdżając na przejazd dla rowerzystów przebiegający przez jezdnię:
- a) musisz pamiętać, że samochody na jezdni mogą do przejazdu zbliżać się z dużą prędkością i nie będą w stanie ustąpić Ci pierwszeństwa przejazdu
 - b) zawsze możesz liczyć na to, że kierujący pojazdami na jezdni zbliżając się do przejazdu zatrzymają się, aby ustąpić Ci pierwszeństwa
 - c) nie musisz zwracać uwagi na nadjeżdżające pojazdy, albowiem masz pierwszeństwo przejazdu
54. Kierujący rowerem poruszający się po drodze z poboczem:
- a) ma obowiązek korzystania z pobocza
 - b) powinien korzystać z jezdni
 - c) nie ma obowiązku korzystania z pobocza
55. Jadąc z dużą prędkością rowerem, który jest wyposażony w oddzielne hamulce, przedniego i tylnego koła należy:
- a) unikać hamowania przednim hamulcem
 - b) hamować przednim hamulcem
 - c) unikać hamowania
56. Rowerzyście zabrania się zatrzymywania, m.in.
- a) przy prawej krawędzi jezdni na wszystkich drogach

- b) na pasie między jezdniami
- c) na drodze dla rowerów

57. Jadąc rowerem przez plac, na którym nie wyodrębniono chodnika i ruch pojazdów i pieszych odbywa się po tej samej powierzchni:

- a) rowerzysta ma pierwszeństwo przed pieszymi
- b) rowerzysta powinien jechać powoli i ustępować pierwszeństwa pieszym
- c) pierwszeństwo nie zostało określone przepisami

58. Rower musi być wyposażony w białe światło z przodu; światło to nazywa się:

- a) pozycyjne
- b) mijania
- c) drogowe

59. Rowerzystom zabrania się:

- a) jazdy po autostradzie
- b) jazdy w strefie zamieszkania
- c) jazdy po zmroku

60. Czy dopuszczalne jest holowanie roweru ?

- a) tak, na połączeniu giętkim, ale długość holu (linki) musi wynosić od 4 do 6 metrów
- b) tak, ale tylko jadąc poboczem
- c) nie

61. Do kierowania rowerem po drodze publicznej osobę w wieku 11 lat uprawnia:

- a) tylko karta rowerowa
- b) pisemna zgoda rodziców
- c) zgoda wychowawcy podczas wycieczki klasowej, jeżeli połowa uczniów posiada karty rowerowe

62. Białe światło z przodu roweru musi oświetlać drogę przed rowerem na odległość:

- a) 20 metrów
- b) 30 metrów
- c) podstawowym zadaniem tego światła nie jest oświetlanie drogi tylko określenie pozycji roweru na drodze dla innych uczestników ruchu drogowego

63. Czerwone światło odblaskowe z tyłu roweru jest obowiązkowe. Nie może ono być w kształcie:

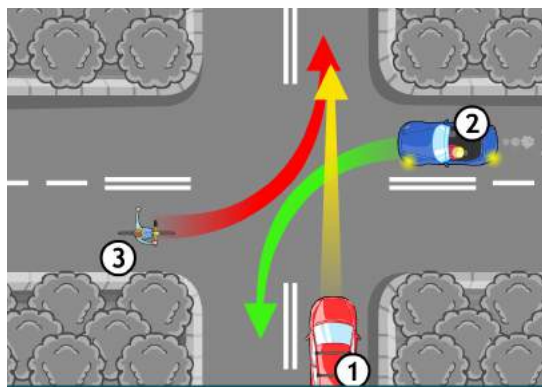
- a) koła
- b) trójkąta
- c) kwadratu

64. Zgodnie z przepisami ruchu drogowego, rower musi być wyposażony w:

- a) lusterko po lewej stronie
- b) sygnał dźwiękowy, np. trąbkę

- c) nóżkę do postawienia roweru
65. W skład obowiązkowego wyposażenia roweru wchodzi:
- a) komplet kluczy
 - b) pompka
 - c) dzwonek lub inny sygnał dźwiękowy
66. Które światło jest obowiązkowym wyposażeniem roweru ?
- a) białe światło odblaskowe z przodu roweru
 - b) czerwone światło odblaskowe z tyłu roweru
 - c) żółte światło odblaskowe w pedałach roweru
67. Rower przeznaczony dla dwóch osób to:
- a) duet
 - b) dublet
 - c) tandem
68. Światła odblaskowe z boku roweru (np. umieszczone w kołach) są wyposażeniem:
- a) dodatkowym
 - b) obowiązkowym
 - c) nie potrzebnym
69. Czerwone światło pozycyjne z tyłu roweru:
- a) może być migające
 - b) może być zastąpione światłem odblaskowym
 - c) powinno być widoczne z odległości minimum 1 km
70. Rower nie musi być wyposażony w:
- a) dzwonek lub inny sygnał dźwiękowy
 - b) dwa niezależnie działające hamulce
 - c) światło odblaskowe czerwone z tyłu roweru
71. Światło odblaskowe z tyłu roweru:
- a) musi być koloru czerwonego i nie może być trójkątne
 - b) musi być koloru czerwonego - kształt nie ma znaczenia
 - c) może być czerwone lub pomarańczowe w kształcie innym niż trójkąt
72. Rower musi być wyposażony w:
- a) dwa niezależnie działające hamulce
 - b) przynajmniej jeden sprawny hamulec
 - c) hamulec tzw. ręczny
73. Do obowiązkowego wyposażenia roweru należą m.in.:
- a) błotniki
 - b) bidon
 - c) dzwonek
74. Rower to:
- a) pojazd samochodowy jednośladowy
 - b) pojazd jednośladowy lub wielośladowy
 - c) pojazd specjalny poruszany siłą mięśni osoby jadącej tym pojazdem

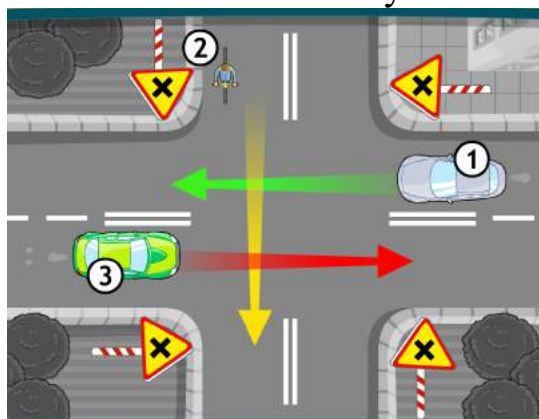
75. Pierwszeństwo na skrzyżowaniu



Na tym skrzyżowaniu kierujący rowerem:

- a) pojedzie jako ostatni
- b) ustępuje pierwszeństwa tylko pojazdowi numer 2
- c) ma pierwszeństwo przed pojazdem numer 1

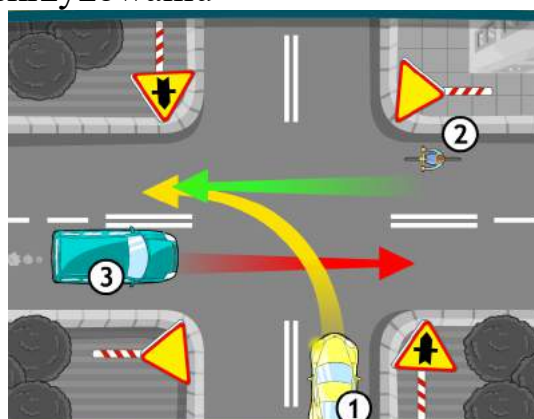
75. Pierwszeństwo na skrzyżowaniu



Na tym skrzyżowaniu kierujący rowerem:

- a) pojedzie jako pierwszy
- b) ustępuje pierwszeństwa tylko pojazdowi numer 3
- c) przejeżdża jako ostatni

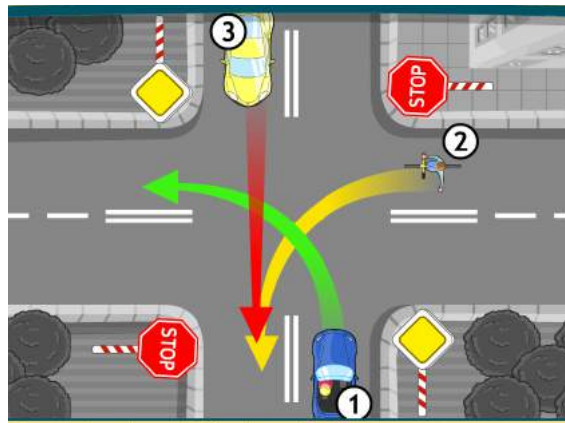
76. Pierwszeństwo na skrzyżowaniu



Na tym skrzyżowaniu kierujący rowerem:

- a) pojedzie jako pierwszy (ma wolną prawą stronę)
- b) ma pierwszeństwo przed pojazdem numer 1
- c) przejeżdża równocześnie z pojazdem numer 3

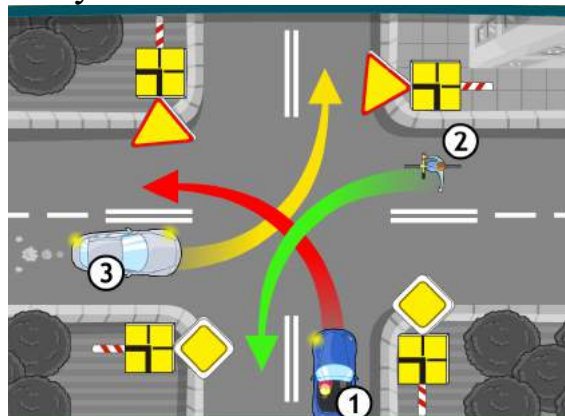
77. Pierwszeństwo na skrzyżowaniu



Na tym skrzyżowaniu kierujący pojazdem numer 1:

- a) ma pierwszeństwo tylko przed rowerzystą
- b) przejeżdża jako ostatni
- c) przejeżdża jako pierwszy

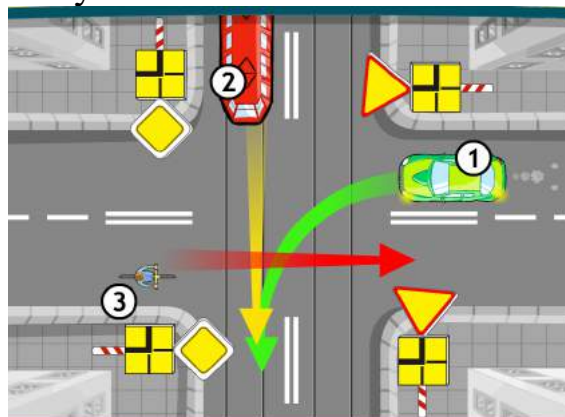
78. Pierwszeństwo na skrzyżowaniu



Na tym skrzyżowaniu kierujący pojazdem numer 1:

- a) ma pierwszeństwo tylko przed pojazdem numer 2
- b) ma pierwszeństwo przejazdu
- c) ustępuje pierwszeństwa rowerzyście

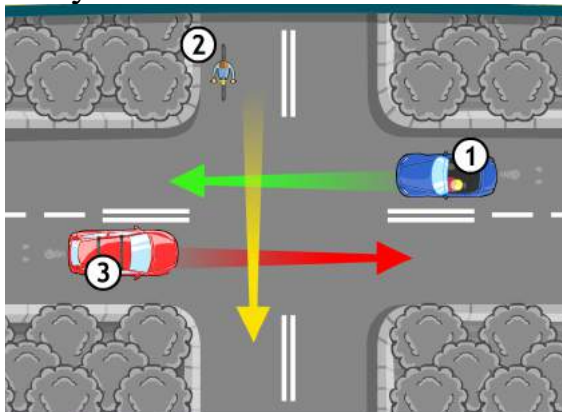
79. Pierwszeństwo na skrzyżowaniu



Na tym skrzyżowaniu rowerzysta:

- a) ma pierwszeństwo przejazdu
- b) ustępuje pierwszeństwa pojazdowi numer 1
- c) ustępuje pierwszeństwa tylko pojazdowi szynowemu

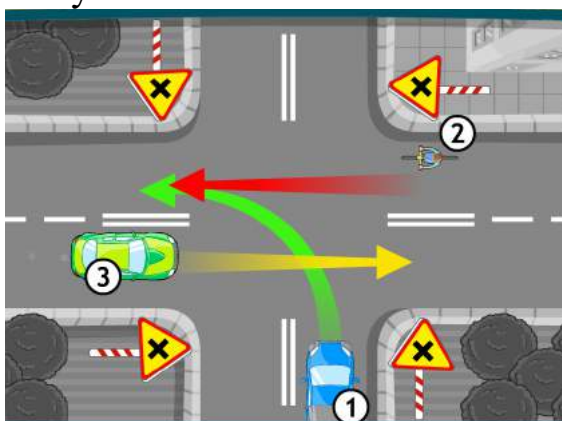
80. Pierwszeństwo na skrzyżowaniu



Na tym skrzyżowaniu:

- a) pojazdy numer 1 i 3 pojadą równocześnie
- b) rowerzysta pojedzie jako drugi
- c) pierwszy pojedzie pojazd numer 1

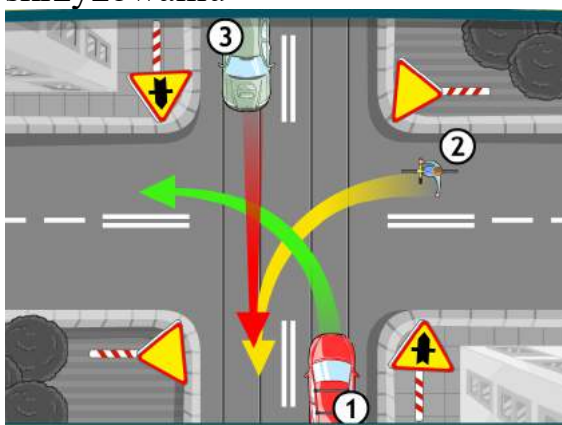
81. Pierwszeństwo na skrzyżowaniu



Na tym skrzyżowaniu pojazd numer 3:

- a) pojedzie jako drugi
- b) musi ustąpić wszystkim pierwszeństwa przejazdu
- c) może jechać równocześnie z rowerzystą

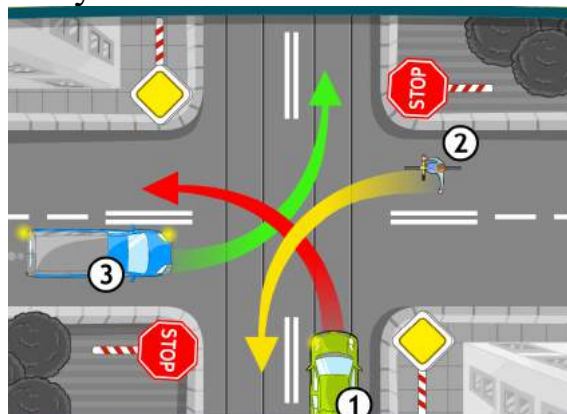
82. Pierwszeństwo na skrzyżowaniu



Na tym skrzyżowaniu kierujący rowerem:

- a) ustępuje pierwszeństwa tylko pojazdowi numer 3
- b) ustępuje pierwszeństwa tylko pojazdowi numer 1
- c) pojedzie jako ostatni

83. Pierwszeństwo na skrzyżowaniu

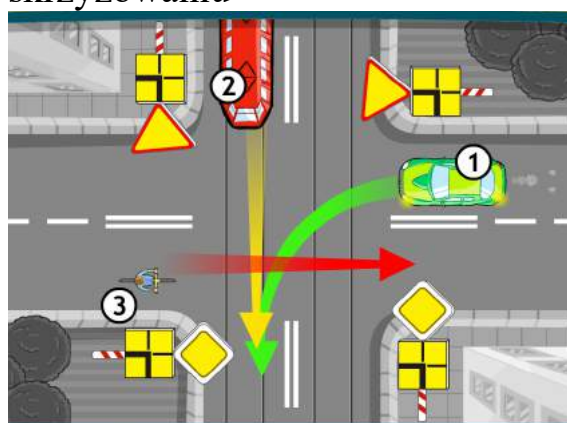


The diagram shows a crossroads where a road with a yellow diamond priority sign crosses a road with red octagonal stop signs. A green car (1) is approaching from the bottom, a blue car (3) is approaching from the left, and a cyclist (2) is approaching from the right. Arrows indicate the intended paths: green for car 1, red for car 3, and yellow for the cyclist.

W tej sytuacji kierujący pojazdem numer 1:

- a) ustępuje pierwszeństwa rowerzyście
- b) ma pierwszeństwo tylko przed pojazdem numer 3
- c) przejeżdża jako pierwszy

84. Pierwszeństwo na skrzyżowaniu

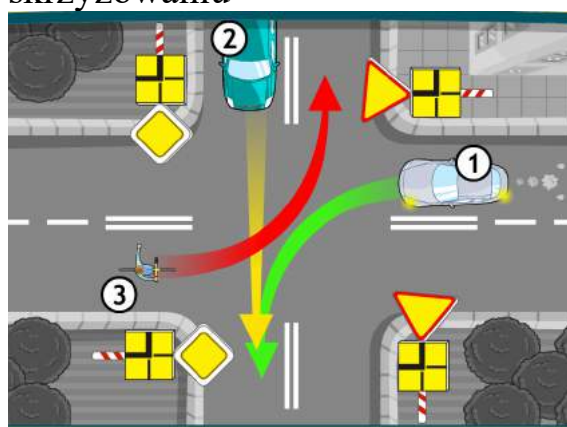


The diagram shows a crossroads where a road with a yellow diamond priority sign crosses a road with a tram. A green car (1) is approaching from the right, a cyclist (3) is approaching from the left, and a tram (2) is approaching from the top. Arrows indicate the intended paths: green for car 1, red for the cyclist, and yellow for the tram.

W tej sytuacji rowerzysta:

- a) ma pierwszeństwo przejazdu
- b) musi ustąpić pierwszeństwa pojazdowi szynowemu
- c) ustępuje pierwszeństwa przejazdu obu pojazdom

85. Pierwszeństwo na skrzyżowaniu

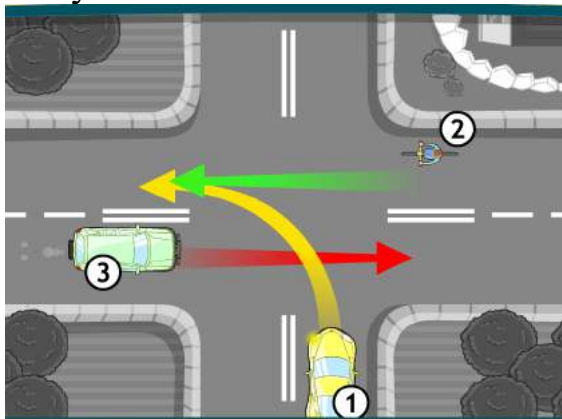


The diagram shows a crossroads where a road with a yellow diamond priority sign crosses a road with a tram. A blue car (2) is approaching from the top, a grey car (1) is approaching from the right, and a cyclist (3) is approaching from the left. Arrows indicate the intended paths: red for car 2, green for car 1, and yellow for the cyclist.

Na tym skrzyżowaniu:

- a) pojazd numer 2 pojedzie jako pierwszy, bo jedzie na wprost
- b) rowerzysta pojedzie jako pierwszy
- c) rowerzysta i pojazd numer 1 mogą jechać równocześnie

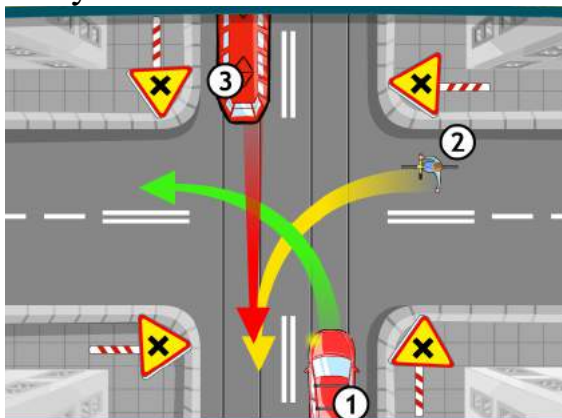
86. Pierwszeństwo na skrzyżowaniu



Na tym skrzyżowaniu rowerzysta:

- a) pojedzie równocześnie z pojazdem numer 3
- b) ustępuje pierwszeństwa pojazdowi numer 1
- c) ma pierwszeństwo przejazdu

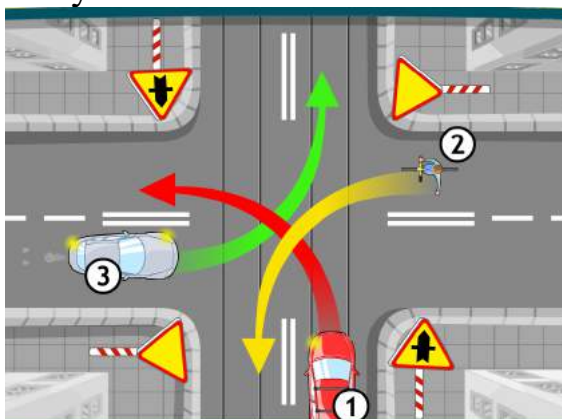
87. Pierwszeństwo na skrzyżowaniu



Przez to skrzyżowanie pierwszy przejedzie:

- a) pojazd szynowy
- b) rowerzysta
- c) pojazd numer 1

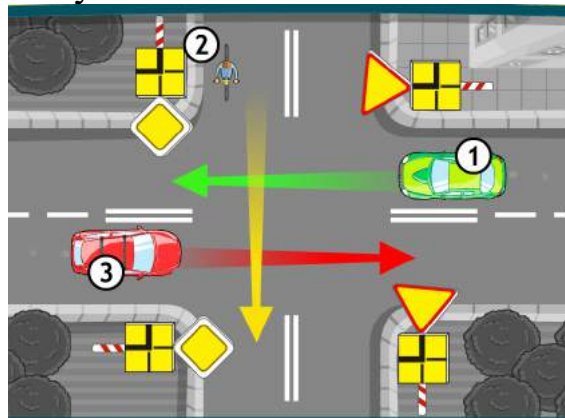
88. Pierwszeństwo na skrzyżowaniu



W tej sytuacji kierujący pojazdem numer 3:

- a) musi ustąpić pierwszeństwa tylko pojazdowi numer 1
- b) ustępuje pierwszeństwa rowerzyście
- c) przejedzie jako pierwszy

89. Pierwszeństwo na skrzyżowaniu

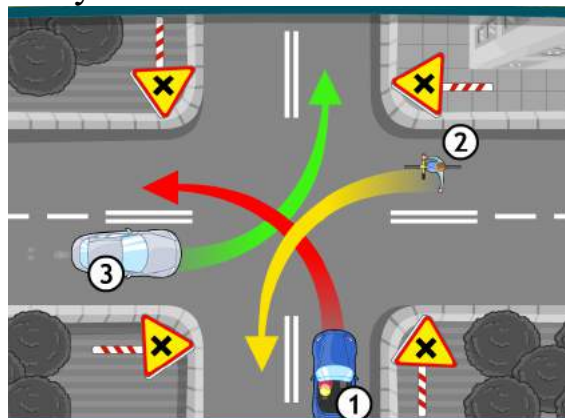


The diagram shows a crossroads where a vertical road crosses a horizontal road. The vertical road has a yellow diamond priority sign. The horizontal road has a yellow triangle priority sign. A cyclist (2) is on the vertical road, a green car (1) is on the horizontal road, and a red car (3) is on the vertical road. Arrows indicate the direction of travel: green for car 1, red for car 3, and yellow for cyclist 2.

Na tym skrzyżowaniu:

- a) pojazdy numer 1 i 3 mogą jechać równocześnie
- b) rowerzysta pojedzie jako drugi
- c) pojazd numer 1 pojedzie jako pierwszy

90. Pierwszeństwo na skrzyżowaniu



The diagram shows a crossroads where a vertical road crosses a horizontal road. The vertical road has a yellow triangle 'no entry' sign. The horizontal road has a yellow diamond priority sign. A cyclist (2) is on the horizontal road, a blue car (1) is on the vertical road, and a light blue car (3) is on the horizontal road. Arrows indicate the direction of travel: red for car 1, green for car 3, and yellow for cyclist 2.

Na tym skrzyżowaniu kierujący rowerem:

- a) pojedzie równocześnie z pojazdem numer 3
- b) musi ustąpić pierwszeństwa pojazdowi numer 1
- c) pojedzie jako pierwszy